

**PREFEITURA MUNICIPAL DE TARUMÃ**
SELEÇÃO PÚBLICA Nº. 001/2019

RESPOSTAS

PROVA OBJETIVA

Nome do Candidato:.....

Número do Documento de Identidade:.....

Número de Inscrição:..... Sala:.....

Leia Atentamente as Instruções**Você recebeu do fiscal:****Este Caderno de Prova Objetiva:**

1. Verifique se este caderno: Corresponde a sua opção de cargo; Contém questões numeradas de 01 a 40.
2. Para cada questão existe apenas UMA alternativa correta.

Um Cartão-Resposta destinado às respostas das questões objetivas.

1. No Cartão-Resposta, a marcação das letras correspondentes às respostas certas deve ser feita cobrindo a letra e preenchendo todo o espaço compreendido pelos quadrados.
2. A marcação em mais de uma alternativa anula a questão.

Ao receber o Cartão-Resposta, é obrigação do candidato:

1. Ler atentamente as instruções para a marcação das respostas.
2. Assinar, no espaço reservado, com caneta preta ou azul.
3. Não **DOBRE**, não **AMASSE** nem **MANCHE** o Cartão-Resposta.
4. Você deverá permanecer obrigatoriamente em sala por no mínimo 60 minutos após o efetivo início das provas.
5. O tempo disponível para esta prova é de 03h00 (três) horas.
6. Ao término da prova, os três últimos candidatos deverão permanecer na sala, sendo somente liberados quando todos as tiverem concluído.
7. Ao terminar a prova, devolva seu Cartão-Resposta e o seu Caderno de Prova. Saia do prédio em silêncio, pois não será permitida a permanência de nenhum candidato após o término de sua prova, nem qualquer aglomeração nos corredores ou arredores do prédio de prova.

Candidato será excluído da Seleção caso:

1. Ausentar-se da sala em que se realiza a prova levando consigo o Caderno de Prova e o Cartão-Resposta.
2. Se utilizar, durante a realização da prova, máquinas e/ou relógios de calcular, bem como rádios gravadores, telefones celulares ou fonte de consulta de qualquer espécie; ou se comunicar com qualquer outro candidato.
3. Deixar de assinar e preencher corretamente o campo do cartão-resposta.
4. Faltar com o devido respeito ante a autoridade do fiscal de sala ou qualquer outro membro da aplicação do concurso

BOA PROVA!!!

01.

02.

03.

04.

05.

06.

07.

08.

09.

10.

11.

12.

13.

14.

15.

16.

17.

18.

19.

20.

21.

22.

23.

24.

25.

26.

27.

28.

29.

30.

31.

32.

33.

34.

35.

36.

37.

38.

39.

40.

PORTUGUÊS

Leia o texto para responder às questões de números 01 a 05
Como e quando surgiu o jogo de bolas de gude?

Embora ninguém saiba a data exata da criação do jogo, há registros de brincadeiras com nozes, sementes de frutas e pedras arredondadas desde a Antiguidade. Na Roma antiga, o jogo já era comum – o poeta Ovídio escreveu sobre a brincadeira no século 2.

Com o passar dos séculos, as bolinhas ganharam novos materiais: argila, aço, pedras como ônix, jaspé e ágata, plásticos e vidro. As primeiras de vidro encontradas em Roma datam provavelmente do século 1 a.C. – mas a primeira manufatura dessas bolas somente surgiria no início do século 15. Anos depois, o pintor renascentista flamengo Pieter Brueghel retratou crianças jogando bolas de gude em seu quadro *Jogos Infantis*, de 1560. No Brasil, as bolinhas trazidas pelos portugueses foram apelidadas “de gude” em referência aos nomes das pedras redondas e lisas retiradas dos leitos dos rios.

No interior do país, o jogo recebeu uma dezena de nomes diferentes, tais como baleba, bilosca, birosca, bolita, búrica, buraca, peteca, piroasca, ximbra ou cabiçulinha. As formas de jogar variam de acordo com o desenho feito no chão, o número de buracos e o número de bolas.

(Marina Motomura. Revista *Superinteressante*)

01- O jogo de bolinhas de gude

- (A) surgiu no Brasil, recebendo vários nomes, de acordo com a região.
- (B) apresenta sempre as mesmas regras, em qualquer local onde seja jogado.
- (C) tem origem longínqua, sendo retratado por poetas romanos.
- (D) tem esse nome por causa do material de que são feitas as bolinhas até hoje.
- (E) Nenhuma das alternativas acima está correta.

02- Em –... **mas** a primeira manufatura dessas bolas somente surgiria no início do século 15. – a expressão em destaque, pode ser substituída, sem alteração de sentido, por

- (A) por isso.
- (B) portanto.
- (C) pois.
- (D) todavia.
- (E) Nenhuma das alternativas acima está correta.

03- ... o pintor renascentista flamengo Pieter Brueghel retratou crianças **jogando** bolas de gude em seu quadro *Jogos Infantis*, ... – a forma verbal destacada pode ser substituída, sem alteração de sentido, por

- (A) as cujas jogavam.
- (B) onde jogavam.
- (C) que jogavam.
- (D) com as quais jogavam.
- (E) Nenhuma das alternativas acima está correta.

04- Assinale a alternativa correta, quanto à colocação pronominal.

- (A) Todos se interessaram em saber a origem do jogo de bolas de gude.
- (B) Não sabe-se com certeza a data exata da criação do jogo.
- (C) Ovídio escreveu sobre o jogo e assim descobriu-se a origem desse jogo.
- (D) Se sabe que as bolinhas de gude podem ser de vários materiais.

(E) Nenhuma das alternativas acima está correta.

05- Assinale a alternativa correta, quanto à pontuação.

- (A) Hoje as bolinhas de gude, podem ser feitas de vários materiais: como argila, aço, pedras, contudo as primeiras eram de vidro e datam do século 1 a.C.
- (B) Hoje, as bolinhas de gude podem ser feitas, de vários materiais; como argila, aço, pedras contudo as primeiras, eram de vidro e datam do século 1 a.C.
- (C) Hoje as bolinhas de gude podem ser feitas de vários materiais, como argila, aço, pedras, contudo as primeiras eram, de vidro e datam do século 1 a.C.
- (D) Hoje as bolinhas de gude podem ser feitas de vários materiais, como argila, aço, pedras; contudo, as primeiras eram de vidro e datam do século 1 a.C.
- (E) Nenhuma das alternativas acima está correta.

06- Assinale a alternativa correta, quanto à flexão verbal.

- (A) Se você não se detesse diante de obstáculos, já teria resolvido seu impasse.
- (B) Quando você vir o diretor peça-lhe que venha assinar este documento.
- (C) Mesmo que os documentos estejam fora de ordem, faça um estudo cuidadoso.
- (D) Se os funcionários reporem o dinheiro, não haverá investigação.
- (E) Nenhuma das alternativas acima está correta.

07- Assinale a alternativa que completa, correta e respectivamente, a lacuna das frases.

- I. O gerente pediu para _____ arquivar estes documentos.
- II. Os formulários devem ser entregues para _____.
- III. Esta discussão é entre _____ e ele.
- (A) mim... eu... mim
- (B) eu... eu... eu
- (C) eu... mim... mim
- (D) mim... mim... eu
- (E) Nenhuma das alternativas acima está correta.

08- Leia as frases.

- I. As pesquisas de mercado tem demonstrado a ineficiência desses novos procedimentos.
 - II. O comprimento das novas estratégias não esta sortindo efeito.
 - III. Não haverá exceção para nenhum funcionário do setor de análise de dados.
 - IV. O pagamento dos quinquênios não traz nenhum benefício aos pensionistas.
- De acordo com a ortografia e a acentuação, estão corretas apenas:
- (A) I e II.
 - (B) I e III.
 - (C) II e III.
 - (D) III e IV.
 - (E) Nenhuma das alternativas acima está correta.

Leia o texto para responder às questões de números 09 a 10
 Quem não tem e-mail é sub-cidadão Pesquisa Datafolha informa que, neste ano, cerca de 25 milhões de brasileiros acima de 16 anos já acessam a internet. Não é pouca coisa, levando em conta que a população brasileira é de 180 milhões de habitantes, dos quais uma expressiva parcela é de pobres, analfabetos ou semi-analfabetos.

A linha da exclusão social pode ser medida também pelos com ou sem-mail. Isso porque ter ou não acesso à Internet define a

capacidade de o indivíduo protestar ou se posicionar diretamente com o poder público e privado. É um jeito de chegar direto, sem intermediários, ao deputado ou senador, por exemplo.

Por isso, um dos atentados contra a cidadania brasileira é, até agora, não terem usado um único dos R\$ 4 bilhões arrecadados dos usuários das telecomunicações para promover inclusão digital. É um absurdo nos mais diferentes sentidos. Abuso pela mentira pública (pegar um dinheiro e não usar); abuso porque educação deveria ser a prioridade das prioridades no país.

(Gilberto Dimenstein, *Folha Online*, 27 abr. 2005.)

09 - Dimenstein justifica a importância de um maior número de pessoas terem acesso à Internet e, conseqüentemente, ao e-mail, assentado no fato de que esse acesso:

- (A) aumenta o percentual de usuários e essa estatística define o progresso de uma nação.
- (B) diminui o percentual de analfabetos e semi-analfabetos.
- (C) estimula as empresas de telecomunicações a cobrar menos impostos.
- (D) possibilita um exercício mais efetivo da cidadania.
- (E) Nenhuma das alternativas acima está correta.

10 - Em que alternativa a substituição da expressão grifada pela que está entre parênteses NÃO desencadeia nenhuma alteração de concordância?

- (A) Tomado pelo lado da propaganda, o programa destina-se a assegurar vagas nas universidades particulares. (a medida)
- (B) A Previdência, que dispõe de um aparelho fiscalizador, foi substituída pelo MEC, que não tem aparelho nenhum. (As Agências do INSS)
- (C) Faz água à moralidade de seu programa Universidade Para Todos. (ondas)
- (D) Tarso Genro poderá devolver os benefícios às escolas que aderirem ao ProUni. (à instituição)
- (E) Nenhuma das alternativas acima está correta.

Leia o Soneto de Vinícius de Moraes abaixo e responda a questão 01:

SONETO DE SEPARAÇÃO

De repente do riso fez-se o pranto
Silencioso e branco como a bruma
E das bocas unidas fez-se a espuma
E das mãos espalmadas fez-se o espanto.
De repente da calma fez-se o vento
Que dos olhos desfez a última chama
o drama.
De repente, não mais que de repente
Fez-se de triste o que se fez amante
E de sozinho o que se fez contente
Fez-se do amigo próximo o distante
Fez-se da vida uma aventura errante
De repente, não mais que de repente
Vinícius de Moraes

11. O ponto chave do conflito encontra-se sintetizado num substantivo apontado como:

- (A) calma.
- (B) drama.
- (C) amante.
- (D) vento.
- (E) Nenhuma das alternativas acima está correta.

. Leia a tirinha abaixo para responder às questões de 12 a 14.



Adão – Mundo Monstro – Folha de S.Paulo – 12/9/12

12. O fato de o personagem não se adaptar à sociedade está ligado à informação de que ele

- (A) tem um outro personagem que fala por si.
- (B) está à frente de seu tempo.
- (C) não consegue se comunicar.
- (D) precisa ficar se explicando sempre.
- (E) Nenhuma das alternativas acima está correta.

13. O super-herói interrompe a fala do personagem para

- (A) dizer que ele (super-herói) é mais velho que o outro.
- (B) caçar do discurso contido do personagem.
- (C) comparar a idade de todos os personagens.
- (D) inventar uma mentira sobre o personagem.
- (E) Nenhuma das alternativas acima está correta.

14. Há um erro gramatical nessa tirinha. Identifique-o.

- (A) A crase no primeiro quadro.
- (B) A crase no segundo quadro.
- (C) A conjugação do verbo "adaptar".
- (D) O erro ortográfico em "sociedade".
- (E) Nenhuma das alternativas acima está correta.

Leia o texto de Rubem Alves e responda as questões abaixo:

Urubus e sabiás

Rubem Alves

Tudo aconteceu numa terra distante, no tempo em que os bichos falavam... Os urubus, aves por natureza becadadas, mas sem grandes dotes para o canto, decidiram que, mesmo contra a natureza eles haveriam de se tornar grandes cantores. E para isto fundaram escolas e importaram professores, gargarejaram dó-ré-mi-fá, mandaram imprimir diplomas, e fizeram competições entre si, para ver quais deles seriam os mais importantes e teriam a permissão para mandar nos outros. Foi assim que eles organizaram concursos e se deram nomes pomposos, e o sonho de cada urubuzinho, instrutor em início de carreira, era se tornar um respeitável urubu titular, a quem todos chamam de Vossa Excelência. Tudo ia muito bem até que a doce tranquilidade da hierarquia dos urubus foi estremecida. A floresta foi invadida por bandos de pintassilgos tagarelas, que brincavam com os canários e faziam serenatas para os sabiás...

Os velhos urubus entortaram o bico, o rancor encrespou a testa, e eles convocaram pintassilgos, sabiás e canários para um inquérito.

— Onde estão os documentos dos seus concursos? E as pobres aves se olharam perplexas, porque nunca haviam imaginado que tais coisas houvessem. Não haviam passado por escolas de canto, porque o canto nascera com elas. E nunca apresentaram um diploma para provar que sabiam cantar, mas cantavam simplesmente...

— Não, assim não pode ser. Cantar sem a titulação devida é um desrespeito à ordem.

E os urubus, em uníssono, expulsaram da floresta os passarinhos que cantavam sem alvarás...

MORAL: "Em terra de urubus diplomados não se houve canto de sabiá."

(O texto acima foi

extraído do livro "Estórias de quem gosta de ensinar — O fim dos Vestibulares", editora Ars Poetica — São Paulo, 1995, pág. 81).

15. " — Não, assim não pode ser. Cantar sem a titulação devida é um desrespeito à ordem."

Na oração acima a alternativa correta conforme o Discurso é:

- (A) Indireto.
- (B) Direto.
- (C) Determinado.
- (D) Indeterminado.
- (E) Nenhuma das alternativas acima está correta.

Matemática

16 - Para a realização de um trabalho na capital do Estado, um colégio indicou 6 professores e, para isso, gastaria R\$ 1.350,00 para o pagamento de 3 diárias para cada professor. Sabendo-se que dois desses professores ficaram impossibilitados de viajar e que não seriam substituídos, o diretor autorizou duas diárias a mais para cada professor.

Se o valor de cada diária for mantido, quanto o colégio deverá desembolsar para o pagamento de 5 diárias para cada professor?

- (A) R\$ 1.080,00.
- (B) R\$ 1.250,00.
- (C) R\$ 1.350,00.
- (D) R\$ 1.500,00.
- (E) Nenhuma das alternativas acima está correta.

17 - Na semana passada, Josias parou em um posto de combustíveis e gastou R\$ 64,50 para colocar 30 litros de gasolina em seu carro. Hoje ele voltou a esse mesmo posto e gastou R\$ 45,58 para colocar 20 litros de gasolina. O que ocorreu com o preço da gasolina nesse posto?

- (A) Diminuiu 6%.
- (B) Diminuiu 3%.
- (C) Não aumentou nem diminuiu.
- (D) Aumentou 6%.
- (E) Nenhuma das alternativas acima está correta.

18 - Pedrinho possui um cofrinho contendo somente moedas de R\$ 0,10 e de R\$ 0,25. Nesse cofrinho há 61 moedas, totalizando R\$ 10,00. Se Pedrinho retirar metade das moedas de R\$ 0,25 centavos, quanto dinheiro restará no cofrinho?

- (A) R\$ 5,75
- (B) R\$ 6,75
- (C) R\$ 7,25
- (D) R\$ 7,75
- (E) Nenhuma das alternativas acima está correta.

19- Marcelo foi ao mercado comprar meio quilo de café. Marque a alternativa que expressa corretamente outros modos de se representar essa mesma medida:

- (A) 0,05 quilo de café; 500 gramas de café 1/5 de café;
- (B) 5,0 quilos de café; 600 gramas de café; 1 ½ de café;
- (C) 0,5 quilo de café; 500 gramas de café; ½ quilo de café;
- (D) 0,5 quilo de café; 600 gramas de café; 1 ½ de café;
- (E) Nenhuma das alternativas acima está correta.

20- Para consertar o telhado da escola, seu Carlos precisou trocar cinco linhas de madeira do telhado que mediam 1,8 m 3,04 m 12,2 m, 5,3 m e 7,16m. Qual o total gasto em linhas de madeira para o conserto do telhado?

- (A) 28,5 metros
- (B) 27,4 metros
- (C) 28,3 metros
- (D) 29,5 metros
- (E) Nenhuma das alternativas acima está correta.

21- Rose emprestou a quantia de R\$ 1 780,00 durante dois meses para Isabel, a uma taxa de 1,85% ao mês, a juros simples. Então, Rose recebeu de Isabel referente a juros, a quantia de

- (A) R\$ 32,05.
- (B) R\$ 32,93.
- (C) R\$ 64,10.
- (D) R\$ 65,86.
- (E) Nenhuma das alternativas acima está correta.

22- Quantos múltiplos de 8 existem entre 30 e 150?

- (A) 21.
- (B) 18.
- (C) 12.
- (D) 15.
- (E) Nenhuma das alternativas acima está correta.

23- Em uma escola de 800 alunos, 30% estudam a noite. Se nesse período 45% são moças, então quantos rapazes estudam à noite nessa escola?

- (A) 132.
- (B) 84.
- (C) 184.
- (D) 548.
- (E) Nenhuma das alternativas acima está correta.

24 - Para comprar um carro Lúcia pretendia vender alguns objetos no valor de R\$ 18.000,00 o que representaria apenas 5/9 do preço do carro. Não tendo conseguido vender todos os objetos, juntou apenas 1/3 do preço do carro. Quanto lhe falta para quitar o carro?

- (A) R\$ 10.800,00.
- (B) R\$ 21.600,00.
- (C) R\$ 18.900,00.
- (D) R\$ 26.400,00.
- (E) Nenhuma das alternativas acima está correta.

25 - A soma de três números é 203. O terceiro excede o segundo em 25 unidades e o segundo excede o primeiro em 26 unidades. Qual é o maior desses números?

- (A) 126.
- (B) 93.
- (C) 113.
- (D) 89.
- (E) Nenhuma das alternativas acima está correta.

26 - Calcule o perímetro da figura ao lado e assinale a alternativa que corresponde a este valor.


- (A) 125 km
- (B) 255 km
- (C) 325 km
- (D) 355 km
- (E) Nenhuma das alternativas acima está correta.

165Km

60 Km

70 km

27 - Observe os objetos representados abaixo e assinale a alternativa que melhor descreve suas dimensões:



- (A) A armário é um objeto tridimensional porque possui somente largura e comprimento.
 (B) A armário e o fio são objetos bidimensionais porque possuem largura e altura.
 (C) O fio é um objeto unidimensional e a armário é um objeto tridimensional.
 (D) O fio é um objeto unidimensional e a armário é um objeto bidimensional.
 (E) Nenhuma das alternativas acima está correta.


28 - Marcelo foi ao mercado comprar meio quilo de café. Marque a alternativa que expressa corretamente outros modos de se representar essa mesma medida:

- (A) 0,05 quilo de café; 500 gramas de café; 1/5 de café;
 (B) 5,0 quilos de café; 600 gramas de café; 1 ½ de café;
 (C) 0,5 quilo de café; 500 gramas de café; ½ quilo de café;
 (D) 0,5 quilo de café; 600 gramas de café; 1 ½ de café;
 (E) Nenhuma das alternativas acima está correta.

29 - Rose emprestou a quantia de R\$ 1 780,00 durante dois meses para Isabel, a uma taxa de 1,85% ao mês, a juros simples. Então, Rose recebeu de Isabel referente a juros, a quantia de:

- (A) R\$ 32,05.
 (B) R\$ 32,93.
 (C) R\$ 64,10.
 (D) R\$ 65,86.
 (E) Nenhuma das alternativas acima está correta.


30 - As formas geométricas estão presentes no espaço ao nosso redor e é importante que os alunos saibam identificá-las, diferenciando figuras espaciais de figuras planas. Por exemplo, alguns edifícios nos lembram da forma de um paralelepípedo, já uma placa de orientação na estrada se assemelha a um retângulo. Para que os alunos aprendam a diferenciar uma figura espacial de uma figura plana é recomendável que tenham oportunidades de manusear sólidos geométricos e, apoiando esses sólidos sobre uma folha de papel, contornem suas partes planas para obter figuras planas. Abaixo, estão representadas algumas figuras planas e outras espaciais.



(L)



(M)



(N)



(O)

As figuras geométricas espaciais estão assinaladas com as letras:

- (A) L e M.
 (B) L e O.
 (C) N e O.
 (D) M e N.
 (E) Nenhuma das alternativas acima está correta.

CONHECIMENTOS GERAIS E ATUALIDADES

31-RIO - Os 33,3 milhões de brasileiros hoje empregados com carteira assinada devem sentir, ainda este ano, os efeitos das mudanças da CLT aprovadas pelo Senado. A reforma trabalhista passa a valer 120 dias após ser sancionada pelo presidente Michel Temer — o que está previsto para esta quinta-feira — e pode alterar regras de contratos que já estão em vigor. Isso porque, embora boa parte dos pontos dependa de um acordo com participação dos sindicatos, outros podem ser negociados de forma individual, sem a necessidade de intervenção das entidades. É o caso de itens como banco de horas, parcelamento de férias e demissão em comum acordo. Especialistas divergem sobre quais trabalhadores poderiam fechar acordos individuais. Isso porque a reforma faz uma restrição, em um de seus artigos, à chamada relação de “livre estipulação”. Pelo texto, esses contratos, em que empregado e empregador podem negociar praticamente tudo — desde que não seja contrário à lei —, só podem ser celebrados caso o trabalhador tenha ensino superior e receba remuneração igual ou maior que o dobro do teto do INSS, o que hoje equivale a R\$ 11.062,62.

Seria uma forma de evitar que trabalhadores menos qualificados sejam coagidos a firmar acordos pouco vantajosos. Para IvandickCruzelles, consultor jurídico e professor da Universidade Mackenzie, o ponto abre margem para interpretações:

— Vai depender da interpretação que a Justiça do Trabalho fizer. Deve ser de que esses pontos só devem valer para o grupo que ganha mais.

Leia mais: <https://oglobo.globo.com/economia/reforma-trabalhista-saiba-qual-o-impacto-para-aqueles-que-estao-contratados-21584577#ixzz4moD1tRgG>

Qual o significado da sigla INSS?

- a) Instancia Nacional do Serviço Social
 b) Instituto Nacional do Serviço Sindical

- c) Instancia Nacional do Seguro Social
 d) Instituto Nacional do Seguro Social
 e) Nenhuma das alternativas acima está correta.

32 - BRASÍLIA - Em depoimento à Procuradoria-Geral da República, um dos donos da JBS, "WB", admitiu que a gigante de carnes pagava um "mensalinho" entre mil reais e R\$ 20 mil a fiscais do Ministério da Agricultura, com o objetivo de ter agentes sempre à disposição dos frigoríficos do grupo e de facilitar a concessão de laudos. Há suspeita de que 200 profissionais estivessem na lista da JBS. Na avaliação de autoridades e empresários, o conteúdo da delação premiada, revelado ontem pelo jornal "Valor Econômico", atrapalha ainda mais as negociações entre o governo e os países importadores para a reabertura dos mercados para a carne do Brasil. Isso é um desastre! Embora o produto brasileiro tenha qualidade, a Agricultura perdeu credibilidade. Para o importador, não há diferença entre o fiscal corrupto porque ganhou mil reais para fazer hora extra ou autorizar a venda de produto estragado — afirmou Pedro Camargo Neto, vice-presidente da Sociedade Rural Brasileira.

Leia mais: <https://oglobo.globo.com/economia/propina-da-jbs-fiscais-dificulta-retomada-das-vendas-de-carne-21589561#ixzz4moHFYIXm>

Qual o nome Completo do dono da empresa JBS citado na reportagem acima?

- a) Wellington Batista
 b) Wesley Batavo
 c) Wesley Batista
 d) Willian Bathista
 e) Nenhuma das alternativas acima está correta.

33- O presidente dos Estados Unidos, "DT", participa da Parada Militar na Avenida ChampsÉlysées, em Paris, na manhã desta sexta-feira (14), dia da festa nacional francesa. O chefe de estado americano é convidado de honra na comemoração do Dia da Bastilha, que coincide com o centésimo aniversário do engajamento americano na Primeira Guerra Mundial.

"T" afirmou no Twitter que foi "uma grande honra" representar os Estados Unidos na magnífica parada do Dia da Bastilha, feriado que comemora a Tomada da Bastilha em 1789, evento decisivo para o início da Revolução Francesa. A bastilha era uma antiga fortaleza usada pela monarquia como prisão.

<http://g1.globo.com/mundo/noticia/ao-lado-de-macron-trump-participa-de-parada-militar-em-paris.ghtml>

Qual é o nome Completo do presidente dos Estados Unidos ?

- a) Donald John Trump
 b) Donald Trump
 c) DonaldyJohnnyTrampe
 d) DonaldeTramp
 e) Nenhuma das alternativas acima está correta.

34- Em julgamento na sede do tribunal, em Porto Alegre, os desembargadores se manifestaram em relação ao recurso apresentado pela defesa de Lula contra a condenação a 9 anos e 6 meses de prisão determinada pelo juiz federal Sérgio Moro, relator da Operação Lava Jato na primeira instância, em Curitiba. Lula se diz inocente.

Os três desembargadores decidiram ampliar a pena para _____ de prisão, com início em regime fechado. O cumprimento da pena se inicia após o esgotamento de recursos no âmbito do próprio TRF-4.

Quantos anos Lula foi condenado em segunda instância?

- a) 12 anos e 1 mês
 b) 9 anos e 6 meses
 c) 12 anos

- d) 19 anos e 1 mês
 e) Nenhuma das alternativas acima está correta.

35- Em 22 de novembro de 2017, foi anunciado como novo técnico do [Palmeiras](#) para a temporada 2018?

- a) Luiz Felipe
 b) Alexi Stival
 c) Vanderlei Luxemburgo
 d) Roger Machado Marques
 e) Nenhuma das alternativas acima está correta.

INFORMÁTICA

36 - Em softwares editores de texto, tais como o Word, Notepad e LibreOffice, utilizam-se de vários atalhos no teclado para facilitar sua interação com o usuário. Esses atalhos funcionam ao serem pressionadas, no teclado, duas ou mais teclas ao mesmo tempo. Assinale a alternativa correta onde encontra-se o atalho utilizado para abrir a janela de impressão.

- a) Ctrl+W
 b) Ctrl+P
 c) Ctrl+Z
 d) Ctrl+Y
 e) Ctrl+L

37 - 2)"Os periféricos são dispositivos instalados junto ao computador, cuja a função é auxiliar na comunicação homem/máquina. Estes dispositivos poderão estar na periferia (em torno) do computador ou dentro do próprio gabinete. O gabinete é uma caixa metálica na horizontal ou vertical, que tem a função de servir como suporte à placa-mãe, drives de comutação e outros dispositivos eletrônicos. Nele são conectados os periféricos."Disponível em: <<http://www.inf.ufsc.br/~j.barreto/cca/perifer/perifericos.htm>>

Assinale a alternativa correta que contenha exemplos de periféricos de entrada:

- a) mouse, teclado e impressora
 b) escâner, monitor e microfone
 c) teclado, mouse e microfone
 d) impressora, microfone e placa de vídeo
 e) nenhuma das alternativas

38 - 3) Para navegar pela internet, utiliza-se de um programa específico, que possibilita a navegação em vários sites diferentes, bem como a exploração desse vasto mundo web. Este programa específico, é o navegador de internet. Entre a diversa gama de navegadores de internet disponíveis, estão três que são muito comuns em computadores. São eles o _____, da Google, o _____ da Microsoft e o _____, da Mozilla Foundation.

Assinale a alternativa que completa as lacunas acima corretamente:

- a) Opera, Netflix, YouTube
 b) Google Chrome, Thunderbird, Opera
 c) Facebook, Internet Explorer, Mozilla Firefox
 d) Google Chrome, Internet Explorer, Mozilla Firefox
 e) Safari, Opera, Thunderbird

Observe a tabela abaixo, criada em uma planilha eletrônica, e responda as questões 39 e 40.

Sem título 1 - LibreOffice Calc

Arquivo Editar Exibir Inserir Formatar Ferramentas Dados Janela Ajuda

Arial 12

E2 $f(x)$ Σ =

	A	B	C	D	E	F
1	COD	NOME	QTDE	VALOR UNITÁRIO	TOTAL	
2	1	JOÃO	5	5		
3	2	MARIA	7	6,5		
4	3	JOSE	2	4,75		
5	4	CARLOS	10	1,5		
6	TOTAL					
7						
8						
9						

39 - Qual a fórmula que será digitada na célula selecionada, E2, para que seja calculado o valor total da "QTDE" multiplicada pelo "VALOR UNITÁRIO" relacionada a "MARIA", cujo código é o 2?

- a) =C3*D3
- b) =D4+C2
- c) =C3/D3
- d) =A3+D1*C5
- e) Nenhuma das alternativas

40 - Para que a célula E6, que é o valor total da soma dos valores da coluna "TOTAL", seja preenchida de forma correta, é necessário que o usuário digite uma fórmula. Assinale a alternativa que contém a fórmula correta.

- a) =SOMA(E2;E5)
- b) =(E2:E5)
- c) =MEDIA(E2:E5)
- d) =E2+E5
- e) =SOMA(E2:E5)