

**PREFEITURA MUNICIPAL DE TARUMÃ**
SELEÇÃO PÚBLICA Nº. 003/2020

RESPOSTAS

PROVA OBJETIVA**Nome do Candidato:** <Candidato>**Número do Documento de Identidade:** <RG>**Número de Inscrição:** <Inscrição> **Sala:** <SALA>**Leia Atentamente as Instruções****Você recebeu do fiscal:****Este Caderno de Prova Objetiva:**

1. Verifique se este caderno: Corresponde a sua opção de cargo; Contém questões numeradas de 01 a 40.

2. Para cada questão existe apenas UMA alternativa correta.

Um Cartão-Resposta destinado às respostas das questões objetivas.

1. No Cartão-Resposta, a marcação das letras correspondentes às respostas certas deve ser feita cobrindo a letra e preenchendo todo o espaço compreendido pelos quadrados.

2. A marcação em mais de uma alternativa anula a questão.

Ao receber o Cartão-Resposta, é obrigação do candidato:

1. Ler atentamente as instruções para a marcação das respostas.

2. Assinar, no espaço reservado, com caneta preta ou azul.

3. Não **DOBRE**, não **AMASSE** nem **MANCHE** o Cartão-Resposta.

4. Você deverá permanecer obrigatoriamente em sala por no mínimo 60 minutos após o efetivo início das provas.

5. O tempo disponível para esta prova é de 03h00 (três) horas.

6. Ao término da prova, os três últimos candidatos deverão permanecer na sala, sendo somente liberados quando todos as tiverem concluído.

7. Ao terminar a prova, devolva seu Cartão-Resposta e o seu Caderno de Prova. Saia do prédio em silêncio, pois não será permitida a permanência de nenhum candidato após o término de sua prova, nem qualquer aglomeração nos corredores ou arredores do prédio de prova.

Candidato será excluído da Seleção caso:

1. Ausentar-se da sala em que se realiza a prova levando consigo o Caderno de Prova e o Cartão-Resposta.

2. Se utilizar, durante a realização da prova, máquinas e/ou relógios de calcular, bem como rádios gravadores, telefones celulares ou fonte de consulta de qualquer espécie; ou se comunicar com qualquer outro candidato.

3. Deixar de assinar e preencher corretamente o campo do cartão-resposta.

4. Faltar com o devido respeito ante a autoridade do fiscal de sala ou qualquer outro membro da aplicação do concurso

5. Não estar utilizando máscara, ou retirá-la durante o período da realização da prova escrita.

BOA PROVA!!!

01.

02.

03.

04.

05.

06.

07.

08.

09.

10.

11.

12.

13.

14.

15.

16.

17.

18.

19.

20.

21.

22.

23.

24.

25.

26.

27.

28.

29.

30.

31.

32.

33.

34.

35.

36.

37.

38.

39.

40.

Língua Portuguesa, Matemática, Conhecimentos Gerais, Locais e Atualidades e Noções de Informática

Leia o texto e responda as questões de 01 a 06.

Pop, tech e sustentável

O agronegócio brasileiro já conquistou seu espaço como grande fornecedor global de alimentos e pode abocanhar fatias maiores ainda num futuro próximo, além de fidelizar os mercados conquistados, avaliaram os participantes do Summit Agronegócio Brasil, 2019, realizado em São Paulo. Para se tornar mais competitivo, porém, o setor deve solucionar gargalos ligados à conectividade no campo, possibilitando o eficiente emprego de tecnologias ligadas ao universo digital e de armazenamento e uso de dados. Neste sentido, iniciativas importantes foram apresentadas no evento, inclusive por várias startups, que mostraram suas soluções para a cadeia produtiva no Painel Tech do Summit. Mas há um grande e custoso desafio a ser enfrentado para levar internet ao meio rural: a instalação de pelo menos 4 mil torres de celular para cobrir o “vazio” de 50 milhões de hectares sem conectividade.

Outra questão essencial é conseguir mostrar ao mundo e também ao próprio País que a produção sustentável já faz parte da realidade do campo. Para os especialistas que debateram o assunto, o agronegócio brasileiro não consegue, ainda, comunicar de maneira eficaz que, além de produtivo e competitivo, respeita as leis ambientais.

Mesmo que atualmente as exportações de commodities agrícolas brasileiras sejam crescentes, muito por causa da guerra comercial entre Estados Unidos e China - que deve se prolongar, na visão dos especialistas - e da peste suína africana no gigante asiático, a conta de exigências ambientais será cada vez mais cobrada. E, para isso, as respostas devem estar prontas e de forma que todos entendam. Um alento veio do setor de logística, que demonstrou otimismo com investimentos recentes e futuros no setor, inclusive na área tecnológica, para otimizar o escoamento da gigante safra brasileira de grãos, que deve bater novo recorde em 2019/2020, com cerca de 246 milhões de toneladas.

01 - O texto trata de assuntos referentes:

- a) ao agronegócio. ()
- b) a discussões e conclusões do evento Summit Agronegócio Brasil. ()
- c) à conectividade no campo. ()
- d) a, b e c estão corretas. ()

02 - O agronegócio brasileiro precisa demonstrar:

- a) pouca competitividade. ()
- b) baixa produção. ()
- c) respeito às leis ambientais. ()
- d) isenção de tributos. ()

03 - Sobre a produção de grãos do agronegócio no Brasil, é incorreto afirmar que:

- a) Tem safra muito grande de grãos. ()
- b) Deve perder o recorde anterior com produção menor em 2019/2020. ()
- c) Teve investimentos recentes e terá trabalhos futuros no setor, inclusive na área tecnológica. ()
- d) Para 2019/2020 produzirá acima de duzentos e quarenta milhões de toneladas. ()

04 - Analise as afirmações sobre o setor de agronegócios no Brasil e assinale a alternativa correta.

I - É preciso possibilitar o eficiente emprego de tecnologia.

II - É fundamental o uso de dados e o seu armazenamento digital.

III - Aumentar a conectividade em extensas áreas.

- a) I, II e III estão corretas. ()
- b) Somente I e III estão corretas. ()
- c) Somente III está correta. ()
- d) Somente I e II estão corretas. ()

- 05 - O agronegócio brasileiro pode, entre outras conquistas, fidelizar os mercados conquistados. Isto significa que:
a) já conquistou o máximo que era capaz. ()
b) perdeu muito espaço pela política tributária que pratica. ()
c) como grande fornecedor global de alimentos pode conservar os clientes conquistados. ()
d) a troca de clientes é melhor. ()
- 06 - “O agronegócio se firma como exportador de alimentos, sobretudo para a China, com respeito às regras ambientais”. Temos na frase grifados:
a) um verbo, um adjetivo e um advérbio. ()
b) um verbo, um substantivo e um adjetivo. ()
c) dois substantivos e um adjetivo. ()
d) um substantivo e dois adjetivos. ()
- 07 - A separação silábica está incorreta na alternativa:
a) sub - lin - gual () b) pres - cin - dir () c) caa - tin - ga () d) fi - lho ()
- 08 - Assinale a alternativa correta, segundo a ortografia:
a) Aquela duxa está fria. ()
b) Lisa viu através do vidro. ()
c) Catarina faz excursões para a praia. ()
d) Você fará a inscrição do concurso? ()
- 09 - Assinale a alternativa incorreta, segundo a concordância:
a) Estavam certas a menina e o namorado. ()
b) Carlos e André estão quites com a justiça eleitoral. ()
c) Luísa tem bastantes selos. ()
d) É permitida a entrada de crianças. ()
- 10 - Segundo a pontuação, assinale a alternativa correta:
a) Gabriel irá à festa; Paulo, à escola. () c) Gabriel irá à festa Paulo à escola. ()
b) Gabriel, irá à festa, Paulo à escola. () d) Gabriel irá à festa Paulo, à escola. ()
- 11 - Analise.
I - Isto é para mim comer?
II - Entre mim e ti não pode haver desentendimentos.
III - Amanda carrega contigo seus livros.
Pode-se afirmar que:
a) I, II e III estão corretas () c) Somente II está correta ()
b) Somente I e II estão corretas () d) Somente III está correta ()
- 12 - O pronome de tratamento Vossa Excelência é para:
a) um ser igual () c) reis ()
b) altas patentes militares () d) funcionários graduados ()
- 13 - Segundo a crase, analise.
I - Saiu à procura de ajuda.
II - Diga à sua mãe que irei almoçar com ela.
III - Voltei à Curitiba.
Pode-se afirmar que:
a) I, II e III estão corretas () c) somente I e II estão corretas ()
b) somente I e III estão corretas () d) somente II e III estão corretas ()

- 14 - Sobre as obras e seus autores, correlacione as colunas e a assinale a alternativa com a sequência correta:

1 -	Os lusíadas	()	Eça de Queirós
2 -	A relíquia	()	Graciliano Ramos
3 -	São Bernardo	()	Érico Veríssimo
4 -	O tempo e o vento	()	Luís de Camões

a) 2 - 3 - 4 - 1 ()

c) 1 - 2 - 3 - 4 ()

b) 4 - 1 - 2 - 3 ()

d) 3 - 4 - 1 - 2 ()

- 15 - Dom Casmurro é obra de:

a) Paulo Lins ()

c) Machado de Assis ()

b) Carlos Drummond ()

d) Jorge Amado ()

- 16 - Amadeu foi pagar uma conta atrasada e pagou no total de R\$ 252,00. Sabendo que inicialmente o valor de sua conta era de R\$ 236,00, qual foi a porcentagem de juros cobrado?

a) 3% ()

b) 4,86% ()

c) 5,15% ()

d) 6,78% ()

- 17 - José tem 24 livros de história em quadrinhos e quer distribuir com seus 4 sobrinhos. Sabendo que a distribuição será proporcional à idade deles, com quantos livros o mais velho ficará, se um tem 8 anos, outro tem 7 anos, outro 6 anos e outro 3 anos?

a) 8 ()

b) 7 ()

c) 6 ()

d) 3 ()

- 18 - Uma área com 64 m^2 será concretada. Sabendo que é uma área quadrada, qual o seu perímetro?

a) 8 m ()

b) 16 m ()

c) 24 m ()

d) 32 m ()

- 19 - Segundo a questão anterior, se colocarem piso de 60 cm de lado nesta área, quantos pisos serão necessários?

a) 178 ()

b) 52 ()

c) 231 ()

d) 39 ()

- 20 - Comprei um bolo de 300 g e paguei R\$ 5,25. Qual o valor do quilo deste bolo?

a) R\$ 11,55 ()

c) R\$ 15,75 ()

b) R\$ 13,80 ()

d) R\$ 17,50 ()

- 21 - Pedi 3 sonhos na padaria. Ao pagar verifiquei que os 3 sonhos pesaram 150 g. Se paguei R\$ 3,45, qual o valor do quilo?

a) R\$ 15,00 ()

c) R\$ 21,00 ()

b) R\$ 17,00 ()

d) R\$ 23,00 ()

- 22 - Segundo a questão anterior, levando em consideração que os sonhos têm o mesmo peso. Quantos sonhos há em 1 quilo e meio?

a) 10 ()

b) 15 ()

c) 30 ()

d) 45 ()

- 23 - 23% de 1.200 corresponde a:

a) 120 ()

b) 276 ()

c) 682 ()

d) 1.177 ()

24 - Calcule: $32x - 12 =$

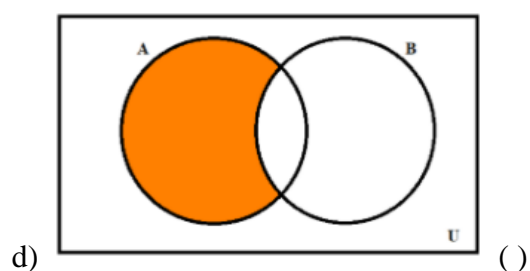
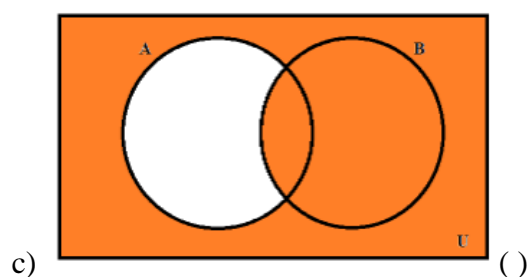
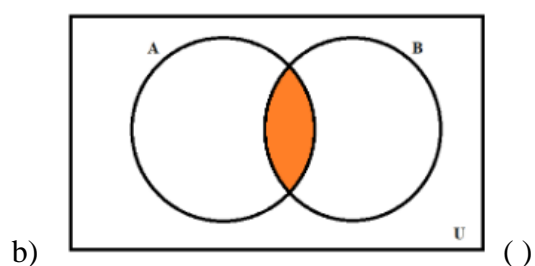
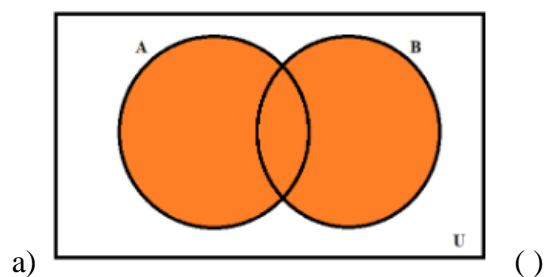
a) $\frac{1}{4}$ ()

c) $\frac{3}{8}$ ()

b) $\frac{1}{8}$ ()

d) 2,67 ()

25 - Sobre conjuntos, qual imagem abaixo representa conjunto complementar?



26 - Analise as afirmações.

I - Conjunto vazio é um conjunto que não possui elementos.

II - Todo o conjunto A é subconjunto dele próprio.

III - Define-se como união dos conjuntos A e B ao conjunto representado por $A \subset B$.

IV - Quando todos os elementos de um conjunto A qualquer pertencem a um outro conjunto B, diz-se então, que A é um subconjunto de B.

Está incorreta:

a) I ()

b) II ()

c) III ()

d) IV ()

27 - Em uma página de um determinado livro cabem 23 linhas. Sabendo que este livro possui 230 páginas e todas estão com seu máximo de linhas, quantas linhas há neste livro?

a) 5.290 ()

c) 23.203 ()

b) 230 ()

d) 2.003 ()

- 28 - Um livro com 216 páginas custa em média R\$ 18,00. Considerando o valor por páginas, quanto custaria um livro com 180 páginas?
- R\$ 15,00 ()
 - R\$ 16,00 ()
 - R\$ 17,00 ()
 - R\$ 18,00 ()
- 29 - Um álcool em gel de 500 ml era vendido por R\$ 16,00. Seu preço foi para R\$ 23,00. Desta maneira, qual a porcentagem de aumento?
- 5% ()
 - 18,25% ()
 - 27% ()
 - 43,75% ()
- 30 - Segundo a questão anterior, se comprei 6 potes de 500 ml, quanto comprei?
- 3 litros ()
 - 3.000 ml ()
 - 30 dl ()
 - a, b e c estão corretas ()
- 31 - Sobre a história de Tarumã, qual alternativa é correta?
- Iniciou-se com uma vila que se desenvolveu graças ao empenho de Gilberto Lex. ()
 - O local de início do futuro município foi uma propriedade na cabeceira do rio Tarumã, uma fazenda com o nome de “Dourado Tarumã”. ()
 - Uma farmácia instalada em 1924 foi o primeiro estabelecimento comercial de Tarumã. ()
 - a, b e c estão corretas. ()
- 32 - Compare a Coluna A - Fatos com a Coluna B - Pessoas Representantes e assinale a alternativa com a correspondência correta:

	COLUNA A - FATOS		COLUNA B - PESSOAS REPRESENTANTES
1 -	Primeira fase de desenvolvimento de Tarumã.	()	Família Rezende Barbosa
2 -	Hino do Município.	()	Usina Nova América
3 -	Cultura da cana de açúcar.	()	Família Lex
4 -	Segunda fase do desenvolvimento de Tarumã.	()	Maria Alice Fernandes

- 1 / 3 / 2 / 4 ()
 - 4 / 3 / 1 / 2 ()
 - 1 / 2 / 3 / 4 ()
 - 4 / 1 / 3 / 2 ()
- 33 - Em qual alternativa temos afirmação incorreta quanto ao corona vírus - COVID-19 epidemia que vem atacando o mundo?
- Teve início na China, na cidade de Whuan. ()
 - Afetou a economia provocando alta nas bolsas de valores e vinda de capital estrangeiro para o Ibovespa no mês de fevereiro de 2020. ()
 - O Brasil teve o primeiro caso de pessoa vinda da Itália infectada pelo corona vírus, no mês de fevereiro de 2020. ()
 - A OMS elevou para muito alto o nível de alerta mundial após a ocorrência de corona vírus em 50 países. ()

- 34 - Com relação a nomes e respectivas obras de expoentes na cultura brasileira, compare a Coluna A - Nomes com a Coluna B - Obras e assinale a alternativa com a correspondência correta:

COLUNA A - NOMES	COLUNA B - OBRAS
1 - Lúcio Costa	() <i>Os Sertões</i>
2 - Portinari	() <i>O sapateiro de Brodo Wiski</i>
3 - Euclides da Cunha	() <i>Aquarela do Brasil</i>
4 - Tarsila do Amaral	() <i>Abaporu</i>
5 - Ari Barroso	() <i>Brasília</i>

- a) 3 / 2 / 5 / 4 / 1 ()
b) 2 / 5 / 3 / 4 / 1 ()
c) 3 / 4 / 5 / 2 / 1 ()
d) 1 / 2 / 3 / 4 / 5 ()

- 35 - A atualidade mundial e brasileira passa por mudanças muito grandes que afetam o modo de viver, como:

- I - A expansão do acesso à educação, com destaque para os cursos à distância - EAD.
II - A internet que passou a ser veículo rápido de comunicação e usos variados.
III - A globalização da economia, com disponibilidade de bens e serviços em nível mundial.

IV - A alteração do perfil de empregos e ocupações.

Pode-se afirmar que:

- a) Somente II e III estão corretas. ()
b) I, II, III e IV estão corretas. ()
c) Somente I, II e III estão corretas. ()
d) Somente I e IV estão corretas. ()

- 36 - Analise as afirmações.

I - Hardware é o conjunto de programas que permite o funcionamento e utilização da máquina.

II - O gabinete pode ser horizontal ou vertical.


III - A CPU é responsável pelo processamento das informações.

IV - O primeiro software necessário para o funcionamento de um computador é o Sistema Operacional.

Está incorreta:

- a) I ()
b) II ()
c) III ()
d) IV ()



- 37 - O comando , no Microsoft Word 2010:

- a) varre o arquivo em busca de erros ortográficos. ()
b) copia a formatação de um local para se aplicar em outro. ()
c) realça o texto selecionado. ()
d) aplica efeito no texto selecionado. ()

- 38 - No Microsoft Word, é possível:

- a) saber o número de palavras de um arquivo. ()
b) salvar um arquivo em pdf. ()
c) inserir gráfico. ()
d) a, b e c estão corretas. ()

- 39 - No Microsoft Excel 2010, não é possível salvar um texto no formato:

- a) pdf ()
b) doc ()
c) página da web ()
d) csv ()

40 - Analise.

I - A velocidade da Internet é muito maior nos provedores de acesso e backbones do que no local onde está localizado o seu computador.

II - Cada computador recebe um número de identificação, chamado IP, que é exclusivo, sendo que dois computadores não podem possuir o mesmo número, ou seja, o mesmo IP.

III - A WWW - World Wide Web que em português quer dizer Teia de Alcance Mundial é o nome pelo qual ficou conhecida a internet. É um serviço da Internet que permite o acesso a uma grande quantidade de informações e dados.

IV - Links ou hiperlinks são atalhos para acessar outros endereços na Web ou também “pontes de ligação” entre documentos.

Pode-se afirmar que:

a) I, II e III estão corretas e IV está incorreta ()

b) I e II estão corretas e III e IV estão incorretas ()

c) II e III estão corretas e I e IV estão incorretas ()

d) I, II, III e IV estão corretas ()