



## **PREFEITURA MUNICIPAL DE TARUMÃ**

Concurso Público Nº 001/2022

Edital 051/2022

### **PROVA OBJETIVA**

### **AGENTE DE APOIO EDUCACIONAL**

Você está recebendo a FOLHA DEFINITIVA DE RESPOSTAS e o CADERNO com 40 questões. Leia cuidadosamente cada questão e escolha a resposta que você considera correta.

Preencha com seu NOME e número do RG os espaços indicados na capa deste caderno. Assine a FOLHA DEFINITIVA DE RESPOSTAS com caneta de tinta azul ou preta.

Marque, na FOLHA DEFINITIVA DE RESPOSTAS, com caneta de tinta azul ou preta, a letra correspondente à alternativa que você escolheu para cada uma das questões.

A duração da prova é de 3 horas.

Você só poderá entregar a FOLHA DEFINITIVA DE RESPOSTAS e sair do prédio depois de decorrida 1 hora do início da prova.

Você poderá levar a FOLHA INTERMEDIÁRIA DE RESPOSTAS no final deste caderno.

Ao sair, NÃO será permitido levar o CADERNO DE QUESTÕES.

Nome do candidato:

RG:

**LÍNGUA PORTUGUESA**

**Instrução:** Leia o conto *Furto de flor*, de Carlos Drummond de Andrade, para responder às questões de 01 a 04.

Furtei uma flor daquele jardim. O porteiro do edifício cochilava e eu furtei a flor. Trouxe-a para casa e coloquei-a no copo com água. Logo senti que ela não estava feliz. O copo destina-se a beber, e flor não é para ser bebida.

Passei-a para o vaso, e notei que ela me agradecia, revelando melhor sua delicada composição. Quantas novidades há numa flor, se a contemplarmos bem. Sendo autor do furto, eu assumira a obrigação de conservá-la. Renovei a água do vaso, mas a flor \_\_\_\_\_ . Temi por sua vida. Não adiantava restituí-la ao jardim. Nem apelar para o médico das flores. Eu a furtara, eu a via morrer.

Já \_\_\_\_\_ , e com a cor particular da morte, peguei-a docemente e fui depositá-la no jardim onde \_\_\_\_\_. O porteiro estava atento e repreendeu-me:

– Que ideia a sua, vir jogar lixo de sua casa neste jardim!

(Fonte: *Contos plausíveis*. Rio de Janeiro, José Olympio, 1985.)

01. Com base nas informações extraídas do conto, é correto afirmar que

- (A) o porteiro nunca fez o seu trabalho corretamente e propiciou vários furtos de flores.
- (B) o tema principal tratado é a efemeridade da vida.
- (C) o narrador-personagem, iludido por sua ganância, não se arrependeu de ter furtado a flor.
- (D) o porteiro foi assertivo em notar o descaso das pessoas com a natureza, poluindo jardins alheios.

02. Conforme a ortografia oficial, completam corretamente e na sequência as lacunas deixadas no texto:

- (A) impalidecia... murcha... desabrochara.
- (B) empaliedecia... morcha... desabroxara.
- (C) impalidecia... mucha... desabrochara.
- (D) empalidecia... murcha... desabrochara.

03. O acento gráfico na palavra destacada em “Nem apelar para o médico das flores” justifica-se, pois

- (A) todas as palavras proparoxítonas são acentuadas.
- (B) palavras paroxítonas terminadas em –o são acentuadas.
- (C) palavras oxítonas terminadas em –o são acentuadas.

- (D) deve-se empregar o acento diferencial no substantivo “médico” em comparação com a forma verbal “eu medico”.

04. Em “Não adiantava restituí-la...” (linhas 11-12), o pronome sublinhado tem como referente textual o substantivo

- (A) “água”.
- (B) “obrigação”.
- (C) “flor”.
- (D) “vida”.

05. Das alternativas que se seguem, marque aquela que a oração sublinhada é coordenada sindética explicativa.


- (A) Pedro não só faltou ao trabalho, como não apresentou nenhuma justificativa.
- (B) Na manhã seguinte, procurei Henrique em seu escritório, porém não o encontrei.
- (C) Apesar de ter estudado muito, não obteve êxito na prova.
- (D) Choveu, porque as ruas estão molhadas.

**MATEMÁTICA**

06. Aplicado em regime de juros simples de 0,5% ao mês, um investidor acumulou ao término de 15 meses um montante de R\$ 3.489,45. Logo, o capital inicial aplicado por este investidor foi de

- (A) R\$ 3.246,00.
- (B) R\$ 3.108,00.
- (C) R\$ 3.325,00.
- (D) R\$ 2.956,00.

07. Uma pizza foi dividida em 8 pedaços. O ângulo X, conforme a imagem a seguir, formado pelo corte em cada pedaço corresponde a



- (A) 45°.
- (B) 30°.
- (C) 25°.
- (D) 20°.

08. João e Pablo são artesãos experientes e conseguem produzir, cada um, a cada cinco dias, 12 peças de certo artesanato. Ricardo, que iniciou recentemente no ramo, produz apenas 6 peças do mesmo artesanato a cada quatro dias. Se João, Pablo e Ricardo trabalharem juntos e mantiverem seus respectivos ritmos de produção por 20 dias,

a média diária ao término do período de peças produzidas será de

- (A) 42.
- (B) 5,2.
- (C) 6,3.
- (D) 40.

09. Uma imagem foi ampliada 15%. Entretanto, percebendo que ainda não estava no tamanho desejado, a imagem manipulada recebeu uma nova ampliação de 5%. Sabendo-se que as dimensões originais eram de 12 X 28 cm, determine o tamanho final da imagem ampliada.

- (A) 14,49 X 33,81 cm.
- (B) 15,59 X 34,90 cm.
- (C) 13,40 X 32,75 cm.
- (D) 12,67 X 31,62 cm.

10. Sobre a equação  $3x^2 - 27 = 0$  foram realizadas as seguintes afirmações:

- I. Não existem raízes reais para a equação.
- II. Ambas raízes para equação são iguais a 0.
- III. As raízes da equação são iguais a -3 e 3.

Está correto o que se afirma **apenas** em:

- (A) I e II.
- (B) I.
- (C) II.
- (D) III.

### CONHECIMENTOS SOBRE TARUMÃ

**Instrução:** Analise a imagem a seguir referente ao projeto Tarumã 100 anos e, com base na história local e conhecimentos a respeito do projeto, responda às questões 11 e 12.



11. Ao lado da palavra “ANOS” aparecem duas datas (1927 e 2027) que marcam o início e fim do período. Assinale a alternativa que apresenta um fato importante, ocorrido em 1927, na história de Tarumã.

- (A) Japolussi iniciou a construção da Vila Lex.
- (B) A Vila Lex foi elevada a Distrito.
- (C) Tarumã obteve sua emancipação.
- (D) A Usina Nova América começou a absorver a mão-de-obra de toda região.

12. O projeto Tarumã 100 Anos tem como pretensão principal

- (A) tornar a cidade membro permanente da Associação Brasileira de Municípios.
- (B) privatizar 80% dos serviços e empresas públicas municipais.
- (C) constituir-se a primeira cidade do país a erradicar o analfabetismo.
- (D) figurar o município entre as 10 cidades mais desenvolvidas do país.

13. O primeiro pleito municipal de Tarumã, após emancipação legal em 1990, teve três candidatos a prefeito. Marque a alternativa que apresenta o nome dos candidatos naquela ocasião:

- (A) Padre Raimundo Correia, Demerval Pingo e Oscar Gozzi.
- (B) Demerval Pingo, Wilson Paitl e Sebastião Carlos Aizo.
- (C) Valdemar Schwartz, Oscar Gozzi e Paschoal Moro.
- (D) Oscar Gozzi, Wilson Paitl e Padre Raimundo Correia.

14. Um dos pontos turísticos rurais oficiais do município de Tarumã, a Chácara Vista Bela é conhecida pela produção de

- (A) olericulturas, apenas.
- (B) derivados da mandioca como tapiocas, pães e bolos.
- (C) especificamente carne suína, salame, bacon e linguiça.
- (D) cachaça artesanal “Fio de Ouro”.

15. A expressão “furiosa”, no contexto histórico da constituição do município de Tarumã, faz alusão à primeira

- (A) pousada.
- (B) padaria.
- (C) banda musical.
- (D) indústria local.

### CONHECIMENTOS ESPECÍFICOS

16. Avalie as afirmações a seguir em verdadeiro (V) ou falso (F) e marque a alternativa correspondente.


- I. O ambiente escolar deve promover a estimulação dos sentidos, a sensação de segurança e confiança nas crianças.
- II. Em sala de aula de educação infantil, brinquedos de pano prescindem de serem lavados periodicamente e o uso de pelúcias deve ser estimulado, assim como o de tapetes felpudos e de cortinas
- III. Ambientes fechados, sem ventilação, favorecem a proliferação dos microrganismos, o que pode ocasionar a disseminação de doenças entre as crianças.

- (A) I – V; II – F; III – V.
- (B) I – V; II – V; III – V.
- (C) I – F; II – F; III – F.
- (D) I – F; II – F; III – V.

17. Marque a alternativa que **não** apresenta uma definição de ergonomia.

- (A) Consiste na disciplina que estuda a relação do ser humano com outros elementos do ambiente de trabalho e a profissão.
- (B) É a ciência que procura aplicar teorias, princípios, dados e métodos para a otimização do bem-estar do ser humano.
- (C) Preocupa-se com a saúde e o bem-estar do trabalhador no cumprimento de suas atividades laborais
- (D) Foca-se exclusivamente na conservação dos materiais que serão utilizados no ambiente profissional com o intuito de preservação do patrimônio público.

**Instrução:** A imagem a seguir apresenta uma cena do cotidiano, mas que pode propiciar riscos à saúde da criança. Analise a situação para responder às questões 18 e 19.



(Fonte: salonlesya.ru)

18. De acordo com a fase do desenvolvimento, é possível observar alguns acidentes mais frequentes, conforme a idade da criança. Um acidente evidentemente presente na imagem está descrito em:

- (A) Mordeduras e picadas.
- (B) Ingestão de pequenos objetos.
- (C) Choque elétrico em tomada.
- (D) Queda.

19. Diante da situação observada, uma medida preventiva a fim de evitar acidentes desta natureza seria:

- (A) Evitar contato com animais.
- (B) Colorir as tomadas elétricas a fim de chamar a atenção da criança.
- (C) Impedir que a criança brinque com outras de idade diferente.

- (D) Deixar fora do alcance da criança objetos pequenos ou que destaquem partes.

20. Segundo o Estatuto da Criança e do Adolescente, em seu artigo 11, é assegurado acesso integral às linhas de cuidado voltadas à saúde da criança e do adolescente, por intermédio do Sistema Único de Saúde, observado o princípio da equidade no acesso a ações e serviços para promoção, proteção e recuperação da saúde. Em conformidade com os parágrafos do referido artigo, está correto o que se afirma em:

- (A) A criança e o adolescente portadores de deficiência receberão atendimento especializado.
- (B) Prescinde aos profissionais que atuam no cuidado diário ou frequente de crianças na primeira infância formação específica e permanente para a detecção de sinais de risco para o desenvolvimento psíquico.
- (C) A criança e o adolescente com deficiência serão atendidos, sem discriminação ou segregação, em suas necessidades gerais de saúde e específicas de habilitação e reabilitação.
- (D) Incumbe ao poder público fornecer mediante prévio pagamento, àqueles que necessitarem, medicamentos, órteses, próteses e outras tecnologias assistivas relativas ao tratamento.

21. Das alternativas que se seguem, assinale aquela que apresenta uma condição adequada para a manutenção da ergonomia no ambiente de trabalho.

- (A) O mobiliário deve possuir regulagens para que o próprio trabalhador possa adaptá-los às suas características antropométricas, como altura, peso etc.
- (B) A temperatura do ambiente de trabalho deve ser regulada entre 28°C e 32°C.
- (C) Ambientes fechados não necessitam de níveis mínimos de iluminação, seja ela natural ou artificial.
- (D) O nível de ruído aceitável para efeito de conforto deve ser acima de 90 dB (A), sendo necessária uma revisão caso os níveis não atinjam o recomendando.

**Instrução:** Analise a tirinha a seguir para responder às questões 22 e 23.



(Fonte: emails.estadao.com.br)

22. Tendo por base o Estatuto da Criança e do Adolescente, artigo 16 e seus respectivos incisos, o contexto da tirinha revela um descaso com a seguinte liberdade:
- (A) opinião e expressão.
  - (B) brincar, praticar esportes e divertir-se.
  - (C) participar da vida política, na forma da lei.
  - (D) crença e culto religioso.
23. Em relação à temática, à luz do ECA, capítulo V, é correto afirmar que
- (A) é proibido qualquer trabalho a menores de dezesesseis anos de idade.
  - (B) a proteção ao trabalho dos adolescentes é regulada exclusivamente pela referida lei.
  - (C) ao adolescente até quatorze anos de idade é assegurada bolsa de aprendizagem.
  - (D) ao adolescente portador de deficiência é proibido qualquer tipo de trabalho.
24. Todos os profissionais que atendem crianças devem estar atentos aos sinais e sintomas físicos e comportamentais associados à violência ou à negligência. São comportamentos relativos à negligência, **com exceção** de
- (A) ausência de proteção contra o frio, o calor.
  - (B) privação de alimentos.
  - (C) falta de estímulos e condições para frequentar a escola.
  - (D) excesso de proteção e cuidado.
25. Avalie as assertivas seguintes e assinale aquela que apresenta uma orientação adequada com o objetivo de reduzir ou evitar os riscos ergonômicos em ambiente de trabalho.
- (A) Posição correta: posicionar os quadris para frente, o mais próximo possível do início do assento.
  - (B) Altura da cadeira com relação à mesa: Elevar ou abaixar o assento de forma a dobrar os cotovelos em ângulo superior a 90°.
  - (C) Inclinação e altura do encosto: Caso a cadeira não possua sistema de regulação, utilizar almofada para encosto adequando a acomodação das costas, e obtendo maior conforto.
  - (D) Ajuste de computadores: Manter as telas de computadores o mais próximo possível dos olhos, evitando forçar a vista.
26. Ao prestar os primeiros socorros a uma pessoa que sofreu acidente ou uma intercorrência clínica, deve-se ter em mente alguns princípios. Portanto, marque a alternativa que apresente uma ação **inapropriada** à prestação dos primeiros socorros.
- (A) Evitar avaliar a cena, agindo imediatamente a fim de cessar o sofrimento da vítima.
  - (B) Deve-se manter a calma.
  - (C) Não permitir que outras pessoas se tornem também vítimas.
  - (D) Solicitar ajuda sempre que as condições da vítima exigirem.
27. Acerca da relação escola e sociedade, assinale a alternativa correta.
- (A) A escola encontra-se fora da sociedade e detém autonomia absoluta em relação a ela.
  - (B) A escola é completamente subordinada a sociedade, ou seja, mera reprodutora do que ocorre na sociedade.
  - (C) A escola é parte da sociedade e tem com o todo uma relação dialética.
  - (D) A escola, apesar de promover uma reflexão, não transforma a sociedade.
28. A seguir são apresentados alguns objetivos da proposta de interação entre família e escola. Marque a alternativa que **não** se configura como um destes objetivos.
- (A) Estabelecer um espaço permanente de reflexão e construção sobre a importância da escola e da família na vida dos alunos.
  - (B) Reduzir as taxas de abandono e repetência dos alunos.
  - (C) Conscientizar os familiares da importância de seu envolvimento para o sucesso escolar do aluno.
  - (D) Transferir a responsabilidade pedagógica para família em eventuais temas polêmicos, como a educação sexual.
29. Avalie os itens que se seguem:
- I. Não ofereça instalações físicas em condições adequadas de habitabilidade, higiene, salubridade e segurança.
  - II. Esteja irregularmente constituída.
  - III. Tenha em seus quadros pessoas idôneas.
- De acordo com o artigo 91, da lei Nº 8.069, de 13 de julho de 1990, as entidades não-governamentais somente poderão funcionar depois de registradas no Conselho Municipal dos Direitos da Criança e do Adolescente. Neste sentido, será negado o registro à entidade nos casos que se afirma em:
- (A) I, II e III.
  - (B) I e II.
  - (C) I e III.
  - (D) II e III.
30. Sobre a interação entre escola e família, é correto afirmar que
- (A) as barreiras entre escola e família precisam ser completamente eliminadas, por esta ra-

zão, alunos devem ser tratados como filhos e professores serem denominados como “tios” ou “tias”.

- (B) a obrigação em educar é específica à família e cabe à escola uma função subsidiária, focada exclusivamente na formação acadêmica do educando.
- (C) a escola não é somente um espaço de transmissão da cultura e de socialização. É também um espaço de construção de identidade.
- (D) apesar de não ser um direito das famílias ter acesso a informações que lhes permitam opinar e tomar decisões sobre a educação de seus filhos, é aconselhável conceder tal acesso.

31. A febre é a elevação da temperatura corporal acima do normal. Sobre o tema e com base no cotidiano escolar, marque a alternativa correta.

- (A) A temperatura normal do corpo pode variar de 34 a 38 graus Celsius (°C).
- (B) Algumas situações podem causar aumento da temperatura corporal, sem que signifiquem febre, como por exemplo a prática de exercício físico.
- (C) Toda febre alta significa, necessariamente, gravidade da doença e, por esta razão, deve-se imediatamente acionar serviços de emergência (SAMU) para o atendimento adequado da criança.
- (D) A convulsão febril é uma condição extremamente comum que ocorre em todas as crianças que têm temperatura superior a 39 graus Celsius.

32. Sobre a família natural e substituta, visto a lei Nº 8.069, de 13 de julho de 1990, assinale a alternativa correta.

- (A) Entende-se por família natural aquela que se estende para além da unidade pais e filhos ou da unidade do casal, formada por parentes próximos com os quais a criança ou adolescente convive e mantém vínculos de afinidade e afetividade.
- (B) Entende-se por família extensa ou ampliada a comunidade formada pelos pais ou qualquer deles e seus descendentes.
- (C) A criança ou o adolescente nunca serão ouvidos por equipe interpessoal na colocação em família substituta.
- (D) Os filhos havidos fora do casamento poderão ser reconhecidos pelos pais, conjunta ou separadamente, no próprio termo de nascimento, por testamento, mediante escritura ou outro documento público, qualquer que seja a origem da filiação.

33. Considerando-se que os acidentes são eventos previsíveis e preveníveis, no ambiente escolar algumas medidas podem auxiliar na organização de um espaço mais seguro. Assim, avalie os itens que se seguem:

- I. Instalar superfícies apropriadas embaixo e ao redor dos brinquedos.
- II. Realizar adequada manutenção dos parques infantis.
- III. Manter as crianças sem supervisão para que elas possam interagir melhor entre si.

Para a segurança em parques infantis (playground), são consideradas práticas adequadas o que se afirma **apenas** em:

- (A) I, II e III.
- (B) I e II.
- (C) I e III.
- (D) II e III.

34. A higiene pessoal é uma contribuição do indivíduo para o bem-estar da família, da coletividade e da sociedade como um todo. Assim, marque a alternativa que apresenta um comportamento que contribui para a higiene no ambiente de trabalho.

- (A) Usar a mesma roupa por vários dias consecutivos, sem lavá-las, a fim de contribuir com a economia de água.
- (B) Usar calçados adequados conforme cada atividade desempenhada no ambiente escolar.
- (C) Lavar as mãos esporadicamente, independentemente da atividade que estiver realizando.
- (D) Manter as unhas compridas, sem os devidos cuidados, afastando assim a possibilidade de verminoses.

35. Analise as afirmações a seguir acerca do desenvolvimento da criança e assinale a alternativa **incorreta**.

- (A) A diversidade de parceiros e experiências potencializa o desenvolvimento infantil.
- (B) O crescimento e o desenvolvimento da criança pequena ocorrem tanto no plano físico quanto no psicológico, pois um depende do outro.
- (C) O desenvolvimento da criança se dá por sua própria iniciativa e capacidade de ação.
- (D) A interação social é o espaço de constituição e desenvolvimento da consciência do ser humano desde que nasce.

36. Sobre o papel da brincadeira no desenvolvimento infantil, analise os itens seguintes:

- I. A brincadeira é uma linguagem infantil que mantém um vínculo essencial com aquilo que é o “não-brincar”.
- II. A brincadeira favorece a autoestima das crianças, auxiliando-as a superar progressivamente suas aquisições de forma criativa.
- III. Brincar permite o enriquecimento das competências imaginativas, criativas e organizacionais infantis.

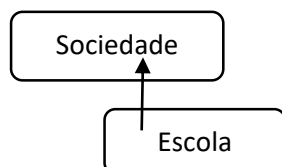
Está correto o que se afirma **apenas** em:

- (A) I, II e III.
- (B) I e II.
- (C) I e III.
- (D) II e III.

**37. Primeiros socorros podem ser definidos como**

- (A) atendimento especializado desenvolvido por profissional exclusivo da área da saúde prestado para vítimas de acidentes no ambiente escolar.
- (B) atendimento de emergência que dispensa conhecimentos prévios na área da saúde, sem técnicas específicas prestado apenas para vítimas em estado grave de saúde e eminente risco de morte.
- (C) os cuidados de emergência dispensados a qualquer pessoa que tenha sofrido um acidente ou mal súbito, até que esta possa receber o tratamento médico adequado e definitivo.
- (D) os cuidados de emergência desenvolvidos apenas por enfermeiros com formação específica a qualquer pessoa, desde que não seja possível comunicar o ocorrido ao corpo de bombeiros local.

**38. Analise a imagem a seguir.**



Tendo em vista as diversas formas de concepção da relação entre Escola e Sociedade, assinale a alternativa que melhor define a relação apresentada na imagem.

- (A) A Escola do lado de fora, com capacidade de, por si só, alavancar a Sociedade.
- (B) A Escola sofre uma determinação absoluta da Sociedade.
- (C) A Escola é inserida no interior da Sociedade, como uma via de mão dupla.
- (D) A Escola e a Sociedade distintas, sem uma interferir na outra.

**39. Acerca da prevenção de acidentes com crianças de 0 a 6 meses, analise os itens que se seguem.**

- I. Proteja o berço e o cercado com grades altas com no máximo 6 cm entre elas.
- II. Nunca deixe a criança sozinha em cima de qualquer móvel, nem por um segundo.
- III. Quando necessário, deixe a criança sob os cuidados de outra criança.

Está correto o que se afirma **apenas** em

- (A) I, II e III.
- (B) I e II.
- (C) II e III.
- (D) I e III.

**40. Faz parte do cuidado e atenção com crianças e adolescentes atentar-se a possíveis sinais de violência física. Assim, devem ser observadas, com exceção de**

- (A) lesões não justificáveis pelo acidente relatado.
- (B) lesões em várias partes do corpo.
- (C) lesões compatíveis com a idade ou o desenvolvimento psicomotor da criança.
- (D) lesões em estágios diferentes de cicatrização ou cura.

# FOLHA INTERMEDIÁRIA DE RESPOSTAS

	A	B	C	D
01	<input type="radio"/>	<input type="radio"/>	<input type="radio"/>	<input type="radio"/>
02	<input type="radio"/>	<input type="radio"/>	<input type="radio"/>	<input type="radio"/>
03	<input type="radio"/>	<input type="radio"/>	<input type="radio"/>	<input type="radio"/>
04	<input type="radio"/>	<input type="radio"/>	<input type="radio"/>	<input type="radio"/>
05	<input type="radio"/>	<input type="radio"/>	<input type="radio"/>	<input type="radio"/>
06	<input type="radio"/>	<input type="radio"/>	<input type="radio"/>	<input type="radio"/>
07	<input type="radio"/>	<input type="radio"/>	<input type="radio"/>	<input type="radio"/>
08	<input type="radio"/>	<input type="radio"/>	<input type="radio"/>	<input type="radio"/>
09	<input type="radio"/>	<input type="radio"/>	<input type="radio"/>	<input type="radio"/>
10	<input type="radio"/>	<input type="radio"/>	<input type="radio"/>	<input type="radio"/>
11	<input type="radio"/>	<input type="radio"/>	<input type="radio"/>	<input type="radio"/>
12	<input type="radio"/>	<input type="radio"/>	<input type="radio"/>	<input type="radio"/>
13	<input type="radio"/>	<input type="radio"/>	<input type="radio"/>	<input type="radio"/>
14	<input type="radio"/>	<input type="radio"/>	<input type="radio"/>	<input type="radio"/>
15	<input type="radio"/>	<input type="radio"/>	<input type="radio"/>	<input type="radio"/>
16	<input type="radio"/>	<input type="radio"/>	<input type="radio"/>	<input type="radio"/>
17	<input type="radio"/>	<input type="radio"/>	<input type="radio"/>	<input type="radio"/>
18	<input type="radio"/>	<input type="radio"/>	<input type="radio"/>	<input type="radio"/>
19	<input type="radio"/>	<input type="radio"/>	<input type="radio"/>	<input type="radio"/>
20	<input type="radio"/>	<input type="radio"/>	<input type="radio"/>	<input type="radio"/>
21	<input type="radio"/>	<input type="radio"/>	<input type="radio"/>	<input type="radio"/>
22	<input type="radio"/>	<input type="radio"/>	<input type="radio"/>	<input type="radio"/>
23	<input type="radio"/>	<input type="radio"/>	<input type="radio"/>	<input type="radio"/>
24	<input type="radio"/>	<input type="radio"/>	<input type="radio"/>	<input type="radio"/>
25	<input type="radio"/>	<input type="radio"/>	<input type="radio"/>	<input type="radio"/>

	A	B	C	D
26	<input type="radio"/>	<input type="radio"/>	<input type="radio"/>	<input type="radio"/>
27	<input type="radio"/>	<input type="radio"/>	<input type="radio"/>	<input type="radio"/>
28	<input type="radio"/>	<input type="radio"/>	<input type="radio"/>	<input type="radio"/>
29	<input type="radio"/>	<input type="radio"/>	<input type="radio"/>	<input type="radio"/>
30	<input type="radio"/>	<input type="radio"/>	<input type="radio"/>	<input type="radio"/>
31	<input type="radio"/>	<input type="radio"/>	<input type="radio"/>	<input type="radio"/>
32	<input type="radio"/>	<input type="radio"/>	<input type="radio"/>	<input type="radio"/>
33	<input type="radio"/>	<input type="radio"/>	<input type="radio"/>	<input type="radio"/>
34	<input type="radio"/>	<input type="radio"/>	<input type="radio"/>	<input type="radio"/>
35	<input type="radio"/>	<input type="radio"/>	<input type="radio"/>	<input type="radio"/>
36	<input type="radio"/>	<input type="radio"/>	<input type="radio"/>	<input type="radio"/>
37	<input type="radio"/>	<input type="radio"/>	<input type="radio"/>	<input type="radio"/>
38	<input type="radio"/>	<input type="radio"/>	<input type="radio"/>	<input type="radio"/>
39	<input type="radio"/>	<input type="radio"/>	<input type="radio"/>	<input type="radio"/>
40	<input type="radio"/>	<input type="radio"/>	<input type="radio"/>	<input type="radio"/>