



PREFEITURA MUNICIPAL DE TARUMÃ

Concurso Público Nº 001/2022

Edital 051/2022

PROVA OBJETIVA

ENFERMEIRO

Você está recebendo a FOLHA DEFINITIVA DE RESPOSTAS e o CADERNO com 40 questões. Leia cuidadosamente cada questão e escolha a resposta que você considera correta.

Preencha com seu NOME e número do RG os espaços indicados na capa deste caderno. Assine a FOLHA DEFINITIVA DE RESPOSTAS com caneta de tinta azul ou preta.

Marque, na FOLHA DEFINITIVA DE RESPOSTAS, com caneta de tinta azul ou preta, a letra correspondente à alternativa que você escolheu para cada uma das questões.

A duração da prova é de 3 horas.

Você só poderá entregar a FOLHA DEFINITIVA DE RESPOSTAS e sair do prédio depois de decorrida 1 hora do início da prova.

Você poderá levar a FOLHA INTERMEDIÁRIA DE RESPOSTAS no final deste caderno.

Ao sair, NÃO será permitido levar o CADERNO DE QUESTÕES.

Nome do candidato:

RG:

LÍNGUA PORTUGUESA

Instrução: Leia o conto *Segunda ou terça-feira*, de Virginia Woolf, para responder às questões de **01** a **05**.

Preguiçosa e indiferente, vibrando facilmente o espaço com suas asas, conhecendo seu rumo, a garça sobrevoa a igreja por baixo do céu. Branca e distante, absorta em si mesma, percorre e volta a percorrer o céu, avança e continua. Um lago? Apaguem suas margens! Uma montanha? Ah, perfeito – o sol doura-lhe as margens. Lá ele se põe. Samambaias, ou penas brancas para sempre e sempre.

Desejando a verdade, esperando-a, laboriosamente vertendo algumas palavras, para sempre desejando – (um grito ecoa para a esquerda, outro para a direita. Carros arrancam divergentes. Ônibus conglomeram-se em conflito) para sempre desejando – (com doze batidas eminentes, o relógio assegura ser meio-dia; a luz irradia tons dourados; crianças fervilham) – para sempre desejando a verdade. O domo é vermelho; moedas pendem das árvores; a fumaça arrasta-se das chaminés; ladram, berram, gritam “Vende-se ferro!” – e a verdade?

Radiando para um ponto, pés de homens e pés de mulheres, negros e incrustados a ouro – (Este tempo nublado – Açúcar? Não, obrigado – a comunidade do futuro) – a chama dardejando e enrubescendo o aposento, exceto as figuras negras com seus olhos brilhantes, enquanto fora um caminhão descarrega, Miss Fulana toma chá à escrivaninha e vidraças conservam casacos de pele.

Trêmula, leve-folha, vagueando nos cantos, soprada além das rodas, salpicada de prata, em casa ou fora de casa, colhida, dissipada, desperdiçada em tons distintos, varrida para cima, para baixo, arrancada, arruinada, amontoada – e a verdade?

Agora recolhida pela lareira, no quadrado branco de mármore. Das profundezas do marfim ascendem palavras que vertem seu negrume. Caído o livro; na chama, no fumo, em momentâneas centelhas – ou agora viajando, o quadrado de mármore pendente, minaretes abaixo e mares indianos, enquanto o espaço investe azul e estrelas cintilam – verdade? Ou agora, consciente da realidade?

Preguiçosa e indiferente, a garça retoma; o céu vela as estrelas; e então as revela.

(Fonte: www.tyrannusmelancholicus.com.br)

01. Com base nos sentidos depreendidos do texto, é correto afirmar que

- (A) o primeiro parágrafo descreve um espaço bastante conturbado, típico de um grande centro urbano.
- (B) o predomínio de conjunções subordinativas e períodos excessivamente longos revelam a complexidade do pensamento do narrador,

que procura concluir uma verdade filosófica a partir de situações corriqueiras.

- (C) a sequência dos fatos narrados revela uma consciência que reflete sobre sua própria busca por sentido, enquanto registra sons e imagens do cotidiano e a passagem do tempo.
- (D) a narrativa leva o leitor ao campo do extraordinário, muito distante do cotidiano, seja no espaço urbano, seja no campo, e impossibilita uma reflexão mais profunda sobre a própria essência humana.

02. Em “o céu vela as estrelas”, é utilizado um recurso estilístico denominado

- (A) hipérbole.
- (B) eufemismo.
- (C) prosopopeia.
- (D) cacofonia.

03. Marque a alternativa em que a conjunção destacada imprime a ideia de tempo.

- (A) “... Miss Fulana toma chá à escrivaninha e vidraças conservam casacos de pele”
- (B) “... enquanto o espaço investe azul e estrelas cintilam – verdade?”
- (C) “Ou agora, consciente da realidade?”
- (D) “... a chama dardejando e enrubescendo o aposento...”

04. Assinale a alternativa em que a substituição da(s) palavra(s) destacada(s) conserva o sentido original empregado no texto.

- (A) “Carros arrancam divergentes” – na mesma direção.
- (B) “Radiando para um ponto, pés de homens e pés de mulheres, negros e incrustados a ouro...” – vazios de.
- (C) “Das profundezas do marfim ascendem palavras que vertem seu negrume” – entornam.
- (D) “com doze batidas eminentes, o relógio assegura ser meio-dia” – imediatas.

05. Em relação aos aspectos linguísticos e semânticos do texto, assinale a afirmativa correta.

- (A) Em “O domo é vermelho”, o termo “vermelho” classifica-se gramaticalmente como adjetivo.
- (B) A forma verbal “conservam”, no enunciado “vidraças conservam casacos de pele”, imprime um sentido de gradação das ações.
- (C) A substituição de “à” por “na”, em “Miss Fulana toma chá à escrivaninha” não alteraria o sentido estabelecido no trecho.
- (D) Em “Caído o livro”, o termo “o livro” classifica-se gramaticalmente como advérbio.





MATEMÁTICA

06. Um cidadão simulou uma aplicação financeira de R\$ 2.500,00 em dois regimes de juros distintos. Na opção A, o valor ficaria investido por prazo de 18 meses e renderia 1,5% a.m. em juro simples. Na opção B, o mesmo valor seria aplicado por 12 meses, com rendimento de 1% a.m., em juro composto. Comparando os valores obtidos nas simulações após o término do período de cada uma delas, determine a diferença entre A e B.

- (A) R\$ 357,94.
 (B) R\$ 350,26.
 (C) R\$ 330,49.
 (D) R\$ 360,32.

07. Analise a imagem a seguir que mostra a composição de um baralho:

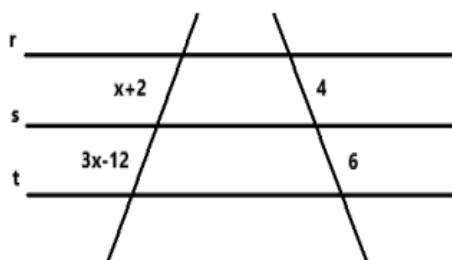
Baralho

Cartas vermelhas		Cartas pretas	
Ouro	Copas	Paus	Espada
			
A	A	A	A
2	2	2	2
3	3	3	3
4	4	4	4
5	5	5	5
6	6	6	6
7	7	7	7
8	8	8	8
9	9	9	9
10	10	10	10
J	J	J	J
Q	Q	Q	Q
K	K	K	K

Ao se retirar, ao acaso, uma carta deste baralho, a probabilidade de que ela seja um dez de copas é igual a aproximadamente

- (A) 12%.
 (B) 1,9%.
 (C) 50%.
 (D) 3,4%.

08. Com base na imagem subsequente, determine o valor de X no seguimento, sabendo-se que as retas r, s, t estão paralelas.



- (A) 12.
 (B) 24.
 (C) 10.
 (D) 16.

09. Resolva o sistema de equações a seguir e assinale a alternativa com a afirmação correta.

$$\begin{cases} 2x + y = 5 \\ 2x + 3y = 2 \end{cases}$$

- (A) O valor de x é igual a 6,5.
 (B) O valor de y é igual a 13/4.
 (C) O produto entre x e y é um número positivo.
 (D) O valor de y é igual a - 3/2.

10. Analise o infográfico a seguir:

Composição do preço do botijão de gás

50,01% Realização Petrobras
 34,3% Distribuição e revenda
 15,6% ICMS
 0% PIS/PASEP e CONFINS

Supondo-se que um botijão de gás de 13 Kg custe R\$ 115,00, o valor que representa a parte referente à distribuição e revenda será de aproximadamente

- (A) R\$ 39,44.
 (B) R\$ 57,61.
 (C) R\$ 17,94.
 (D) R\$ 28,74.

CONHECIMENTOS SOBRE TARUMÃ

11. Avalie os itens a seguir:

- I. Oscar Gozzi.
 II. Jairo da Costa e Silva.
 III. Edson Schwarz.

Já ocuparam o cargo de prefeito de Tarumã ao longo da história, os nomes apresentados apenas em:

- (A) I, II e III.
 (B) I e II.
 (C) I e III.
 (D) II e III.

12. Pedro nasceu em Tarumã. Segundo os dados oficiais do IBGE, Pedro receberá o adjetivo gentílico de

- (A) tarumanense.
 (B) tarumaniano.
 (C) tarumaenense.
 (D) tarumaense.

13. Em conformidade com a simbologia dada ao brasão de Tarumã, o elemento que identifica o local como sendo uma cidade está descrito em:

- (A) As flechas.
- (B) O escudo ibérico.
- (C) A Haste de cana-de-açúcar.
- (D) As oito torres.

14. A banda, conhecida como a “furiosa”, nascida em 1928, ficou completa com a participação, no ano seguinte, de

- (A) Franz Labs.
- (B) Otto Herzog.
- (C) José Machado.
- (D) Ilo Malagoli.

15. Silas Orvellas ficou marcado na história de Tarumã por ter se estabelecido, em 1925, ainda na então Vila Lex, como o primeiro

- (A) padeiro.
- (B) dentista.
- (C) farmacêutico.
- (D) oftalmologista.

CONHECIMENTOS ESPECÍFICOS

16. De acordo com o Art. 9º da Lei n. 8.080/1990, a direção do Sistema Único de Saúde no âmbito da União é de competência:

- (A) Do Ministério da Saúde.
- (B) Do Conselho Nacional de Saúde.
- (C) Da Secretaria Estadual da Saúde.
- (D) Da Secretaria Municipal da Saúde.

17. A Lei n. 13.427/2017 inseriu um princípio ao Art. 7º da Lei n. 8.080/1990, que é:

- (A) Universalidade de acesso aos serviços de saúde em todos os níveis de assistência.
- (B) Utilização da epidemiologia para o estabelecimento de prioridades, a alocação de recursos e a orientação programática.
- (C) Descentralização político-administrativa, com direção única em cada esfera de governo.
- (D) Organização de atendimento público específico e especializado para mulheres e vítimas de violência doméstica em geral, que garanta, entre outros, atendimento, acompanhamento psicológico e cirurgias plásticas reparadoras.

18. O Código de Ética dos Profissionais de Enfermagem, instituído pela Resolução Cofen n. 564/2017 apresenta como uma proibição:

- (A) Exercer a Enfermagem com liberdade, segurança técnica, científica e ambiental, autonomia, e ser tratado sem discriminação de qualquer natureza, segundo os princípios e

pressupostos legais, éticos e dos direitos humanos.

- (B) Registrar informações incompletas, imprecisas ou inverídicas sobre a assistência de Enfermagem prestada à pessoa, família ou coletividade.
- (C) Anunciar a prestação de serviços para os quais detenha habilidades e competências técnico-científicas e legais.
- (D) Prestar assistência de Enfermagem livre de danos decorrentes de imperícia, negligência ou imprudência.

19. O Código de Ética dos Profissionais de Enfermagem, instituído pela Resolução Cofen n. 564/2017 apresenta como penalidades a serem impostas pelo Sistema Cofen/Conselhos Regionais de Enfermagem:

- (A) Advertência verbal, advertência escrita, multa, suspensão do exercício profissional, cassação do direito ao exercício profissional.
- (B) Advertência verbal, multa, censura, suspensão do exercício profissional, cassação do direito ao exercício profissional.
- (C) Advertência verbal, advertência escrita, multa, suspensão do exercício profissional, prisão.
- (D) Advertência verbal, multa, suspensão do exercício profissional.

20. O Artigo 87 do Código de Ética dos Profissionais de Enfermagem, instituído pela Resolução Cofen n. 564/2017 apresenta como uma proibição: “Registrar informações incompletas, imprecisas ou inverídicas sobre a assistência de Enfermagem prestada à pessoa, família ou coletividade”.

Em conformidade com os Artigos 115, 116, 117, 118 e 119, a desobediência dessa proibição pode levar a:

- (A) Advertência escrita.
- (B) Multa.
- (C) Censura.
- (D) Cassação do direito ao exercício profissional.

21. Conforme o Parecer Coren-SP n. 2/2022, em relação à troca de cânula de traqueostomia por enfermeiro, indique a alternativa correta.

- (A) O enfermeiro pode realizar a troca eletiva da cânula de traqueostomia.
- (B) O enfermeiro pode realizar a troca da cânula de traqueostomia de metal; a de plástico é de competência do médico.
- (C) No ambiente domiciliar, o procedimento de troca de cânula dispensa a presença de um médico; deve-se resguardar um sistema organizacional do serviço de atendimento domiciliar.

- (D) Oferecer a assistência sistematizada de enfermagem aos pacientes portadores de estomas é de responsabilidade do profissional enfermeiro, juntamente com os demais profissionais da equipe multiprofissional.
- 22.** Segundo o Parecer Coren-SP n. 15/2021, em relação à aspiração de vias aéreas em ambiente hospitalar, é correto afirmar que
- (A) na aspiração da orofaringe, a luva estéril é necessária.
- (B) na aspiração de vias aéreas inferiores e nasofaringe, em ambiente hospitalar, deve ser utilizada somente luva estéril.
- (C) caso o paciente mantenha o uso do dispositivo de aspiração de sistema fechado, a luva estéril é necessária.
- (D) luvas estéreis ginecológicas não podem ser utilizadas, em hipótese alguma.
- 23.** Um paciente chega a Unidade Básica de Saúde, traz consigo uma prescrição médica e respectiva medicação; solicita que o enfermeiro a administre. O enfermeiro observa que na bula está escrito: “uso restrito em hospitais”. Em conformidade com o Parecer Coren-SP n. 11/2020, a atitude correta do enfermeiro deve ser:
- (A) Com atitude acolhedora, explicar ao paciente que o mesmo deverá dirigir-se a uma unidade hospitalar do SUS, pois a medicação não pode ser administrada em uma Unidade Básica de Saúde.
- (B) Com atitude acolhedora, explicar ao paciente que o mesmo deverá dirigir-se a uma unidade hospitalar particular, pois a medicação não pode ser administrada em uma Unidade Básica de Saúde do SUS.
- (C) Administrar a medicação desde que a Unidade Básica de Saúde disponha de condições e materiais necessários.
- (D) Administrar a medicação e encaminhá-lo para observação em uma unidade hospitalar conforme tempo instruído na bula.
- 24.** O XABCDE é um mnemônico que padroniza o atendimento inicial ao paciente politraumatizado e define prioridades na abordagem ao trauma, no sentido de padronizar o atendimento. A letra X instrui a avaliação de:
- (A) Exsanguinação.
- (B) Xerostomia.
- (C) Pulso filiforme.
- (D) Expectoração.
- 25.** No intuito de agilizar o diagnóstico do Acidente Vascular Encefálico para atendimento rápido e específico, diversas escalas podem ser utilizadas, como a Escala de Cincinnati, que contém como itens de avaliação:
- (A) Queda facial; Debilidade dos braços; Fala anormal.
- (B) Abertura ocular; Resposta verbal; Resposta motora.
- (C) Nível de consciência; Sinais Vitais; Queixas de dor.
- (D) Paralisia; Sangramento; Perfusão periférica.
- 26.** Sobre Diabetes melito tipo 2, indique a alternativa correta.
- (A) Causada por uma combinação de resistência à insulina e deficiência relativa de insulina.
- (B) Pouca ou nenhuma insulina endógena, exigindo injeções de insulina para controlar o diabetes, prevenir cetoacidose e manter a vida.
- (C) A manifestação clínica é abrupta, com sintomas clássicos de polidipsia, polifagia, poliúria e perda de peso.
- (D) Mais observado em pacientes com menos de 30 anos, mas pode ocorrer em idosos.
- 27.** De acordo com o Caderno de Atenção Básica n. 36 do Ministério da Saúde, um paciente, com diagnóstico de diabetes melito, com glicemia casual (aquela realizada a qualquer hora do dia, sem se observar o intervalo desde a última refeição) igual a 193 mg/dL, é classificado como:
- (A) Glicemia normal.
- (B) Glicemia alterada.
- (C) Tolerância diminuída à glicose.
- (D) Diabetes melito.
- 28.** De acordo com o Caderno de Atenção Básica n. 36 do Ministério da Saúde, um paciente, com diagnóstico de diabetes melito, com glicemia de jejum igual a 125 mg/dL, é classificado como:
- (A) Glicemia normal.
- (B) Glicemia alterada.
- (C) Tolerância diminuída à glicose.
- (D) Diabetes melito.
- 29.** De acordo com o Caderno de Atenção Básica n. 36 do Ministério da Saúde, a respeito do armazenamento da insulina, é correto afirmar que:
- (A) As insulinas lacradas podem ser mantidas em temperatura ambiente, entre 15 e 30° C.
- (B) A insulina pode ser congelada.
- (C) Após aberto, o frasco pode ser mantido em temperatura ambiente para minimizar dor no local de injeção, entre 15 e 30° C, ou também em refrigeração, entre 2 a 8° C.
- (D) Após 8 semanas do início do uso, a insulina perde sua potência, especialmente se mantida fora da geladeira. Por isso, é importante

orientar que a pessoa anote a data de abertura no frasco.

30. De acordo com o Caderno de Atenção Básica n. 36 do Ministério da Saúde, a respeito das seringas e agulhas na aplicação de insulina, indique a alternativa correta.

- (A) A seringa e a agulha em uso devem ser mantidas refrigeradas, entre 2 e 8° C.
- (B) As seringas com agulhas acopladas são descartáveis, e, portanto, não podem ser reutilizadas pela própria pessoa.
- (C) Apesar de serem descartáveis, as seringas com agulhas acopladas podem ser reutilizadas pela própria pessoa, desde que a agulha e a capa protetora não tenham sido contaminadas.
- (D) Recomenda-se a higienização da agulha com álcool.

31. D.A.S., 28 anos, apresente edema em pé D classificado como 3+/4+. Isso quer dizer que:

- (A) Ao realizar pressão com o dedo indicador no local do edema, a depressão pode ser observada por cerca de 30 minutos.
- (B) Ao realizar pressão com o dedo indicador no local do edema, o pulso pedal está filiforme.
- (C) Ao realizar pressão com o dedo indicador no local do edema, tanto superficial como profunda, o paciente não sente dor.
- (D) Ao realizar pressão com o dedo indicador no local do edema, a profundidade da depressão é cerca de 6 mm.


32. A avaliação do estado geral, estado mental, tipo morfológico, dados antropométricos, postura, locomoção, expressão facial, sinais vitais, pele, mucosas e anexos, corresponde:

- (A) Ao exame físico geral.
- (B) Ao exame físico específico.
- (C) À evolução de enfermagem.
- (D) À Sistematização da Assistência de Enfermagem.

33. O exame das pupilas deve ser realizado observando-se:

- (A) Coloração; esclera; reação à luz.
- (B) Acuidade visual; mucosa; reação à luz.
- (C) Diâmetro; simetria; reação à luz.
- (D) Consciência; movimentação; reação à luz.

34. Considere a figura a seguir, de uma seringa com capacidade para 100 UI. Para facilitar a visualização, uma parte dela foi aumentada. Marque a alternativa que contém o volume supostamente aspirado indicado pela seta.



- (A) 0,028 ml
- (B) 0,280 ml
- (C) 2,800 ml
- (D) 2,900 ml

35. Com a hipodermóclise o enfermeiro será capaz de:

- (A) Administrar medicações.
- (B) Melhorar o estado de hipoglicemia.
- (C) Avaliar o estado de consciência.
- (D) Prevenir o câncer de colo de útero.

36. Piparote é uma técnica utilizada para determinar:

- (A) Pneumonia.
- (B) Ascite.
- (C) AVE.
- (D) Covid-19.

37. A hemiparesia consiste:

- (A) Na diminuição da força muscular de metade do corpo (direita ou esquerda).
- (B) Na sensação de formigamento de metade do corpo (direita ou esquerda).
- (C) Na ausência de força muscular nos membros inferiores.
- (D) Na descordenação do movimento muscular nos quatro membros.

38. Antianginosos são fármacos que têm como objetivo melhorar a perfusão miocárdica e/ou reduzir a sua demanda metabólica. É um antianginoso:

- (A) Dinitrato de isossorbida.
- (B) Dipirona sódica.
- (C) Amicacina.
- (D) Epinefrina.

39. Foi prescrito 50 mg de Midazolam em um SF 0,9% 200 ml. Na farmácia estão disponíveis ampolas de 5 mg/3 ml. Quantas ampolas serão usadas e qual volume deve ser aspirado para administrar a dose prescrita?

- (A) 4 ampolas; 10 ml.

- (B) 6 ampolas; 50 ml.
- (C) 8 ampolas; 210 ml.
- (D) 10 ampolas; 30 ml.

40. Foi prescrito 1 g de Cefalotina. Estão disponíveis frascos com 1000 mg. Ao reconstituir o frasco em 8 ml qual volume deve ser aspirado para administrar a dose prescrita?

- (A) 1000 ml.
- (B) 800 ml.
- (C) 10 ml.
- (D) 8 ml.

FOLHA INTERMEDIÁRIA DE RESPOSTAS

	A	B	C	D
01	<input type="radio"/>	<input type="radio"/>	<input type="radio"/>	<input type="radio"/>
02	<input type="radio"/>	<input type="radio"/>	<input type="radio"/>	<input type="radio"/>
03	<input type="radio"/>	<input type="radio"/>	<input type="radio"/>	<input type="radio"/>
04	<input type="radio"/>	<input type="radio"/>	<input type="radio"/>	<input type="radio"/>
05	<input type="radio"/>	<input type="radio"/>	<input type="radio"/>	<input type="radio"/>
06	<input type="radio"/>	<input type="radio"/>	<input type="radio"/>	<input type="radio"/>
07	<input type="radio"/>	<input type="radio"/>	<input type="radio"/>	<input type="radio"/>
08	<input type="radio"/>	<input type="radio"/>	<input type="radio"/>	<input type="radio"/>
09	<input type="radio"/>	<input type="radio"/>	<input type="radio"/>	<input type="radio"/>
10	<input type="radio"/>	<input type="radio"/>	<input type="radio"/>	<input type="radio"/>
11	<input type="radio"/>	<input type="radio"/>	<input type="radio"/>	<input type="radio"/>
12	<input type="radio"/>	<input type="radio"/>	<input type="radio"/>	<input type="radio"/>
13	<input type="radio"/>	<input type="radio"/>	<input type="radio"/>	<input type="radio"/>
14	<input type="radio"/>	<input type="radio"/>	<input type="radio"/>	<input type="radio"/>
15	<input type="radio"/>	<input type="radio"/>	<input type="radio"/>	<input type="radio"/>
16	<input type="radio"/>	<input type="radio"/>	<input type="radio"/>	<input type="radio"/>
17	<input type="radio"/>	<input type="radio"/>	<input type="radio"/>	<input type="radio"/>
18	<input type="radio"/>	<input type="radio"/>	<input type="radio"/>	<input type="radio"/>
19	<input type="radio"/>	<input type="radio"/>	<input type="radio"/>	<input type="radio"/>
20	<input type="radio"/>	<input type="radio"/>	<input type="radio"/>	<input type="radio"/>
21	<input type="radio"/>	<input type="radio"/>	<input type="radio"/>	<input type="radio"/>
22	<input type="radio"/>	<input type="radio"/>	<input type="radio"/>	<input type="radio"/>
23	<input type="radio"/>	<input type="radio"/>	<input type="radio"/>	<input type="radio"/>
24	<input type="radio"/>	<input type="radio"/>	<input type="radio"/>	<input type="radio"/>
25	<input type="radio"/>	<input type="radio"/>	<input type="radio"/>	<input type="radio"/>

	A	B	C	D
26	<input type="radio"/>	<input type="radio"/>	<input type="radio"/>	<input type="radio"/>
27	<input type="radio"/>	<input type="radio"/>	<input type="radio"/>	<input type="radio"/>
28	<input type="radio"/>	<input type="radio"/>	<input type="radio"/>	<input type="radio"/>
29	<input type="radio"/>	<input type="radio"/>	<input type="radio"/>	<input type="radio"/>
30	<input type="radio"/>	<input type="radio"/>	<input type="radio"/>	<input type="radio"/>
31	<input type="radio"/>	<input type="radio"/>	<input type="radio"/>	<input type="radio"/>
32	<input type="radio"/>	<input type="radio"/>	<input type="radio"/>	<input type="radio"/>
33	<input type="radio"/>	<input type="radio"/>	<input type="radio"/>	<input type="radio"/>
34	<input type="radio"/>	<input type="radio"/>	<input type="radio"/>	<input type="radio"/>
35	<input type="radio"/>	<input type="radio"/>	<input type="radio"/>	<input type="radio"/>
36	<input type="radio"/>	<input type="radio"/>	<input type="radio"/>	<input type="radio"/>
37	<input type="radio"/>	<input type="radio"/>	<input type="radio"/>	<input type="radio"/>
38	<input type="radio"/>	<input type="radio"/>	<input type="radio"/>	<input type="radio"/>
39	<input type="radio"/>	<input type="radio"/>	<input type="radio"/>	<input type="radio"/>
40	<input type="radio"/>	<input type="radio"/>	<input type="radio"/>	<input type="radio"/>